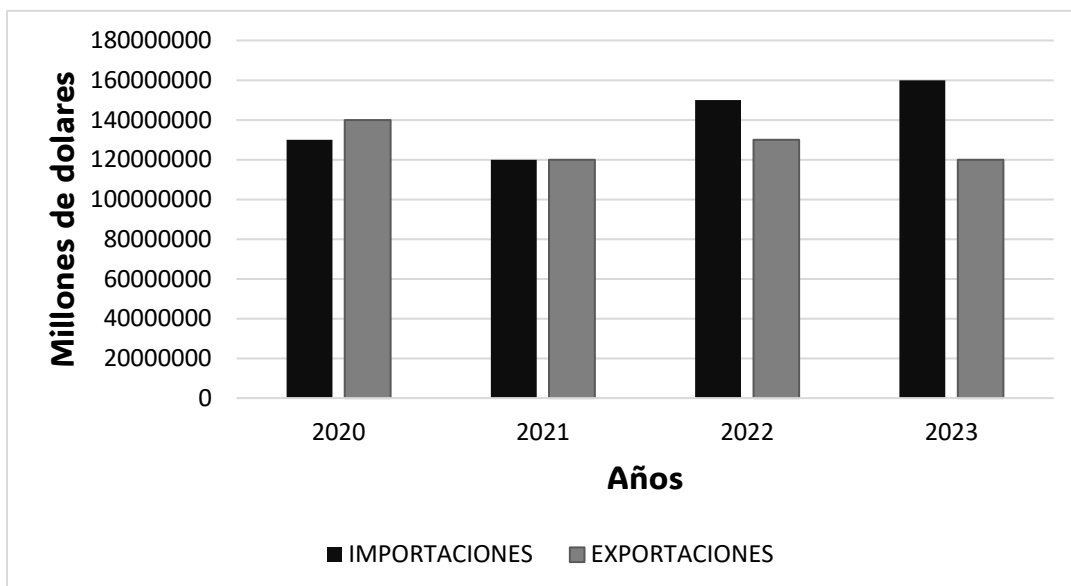


3. En la siguiente gráfica se representa el dinero que se invirtieron en las exportaciones e importaciones en (dólares) de la industria de aseo y limpieza en Colombia en los últimos años.



- a. ¿Es correcto afirmar que en Colombia se destinó más dinero en importaciones que en exportaciones en los últimos tres años? Explica tu respuesta

- b. ¿En qué año fue mayor la diferencia entre el dinero invertido para exportaciones que el dinero invertido en importaciones?

4. La estatura de Jacobo cuando tenía un año era de 81 cm, ahora que tiene cuatro años es de 103 cm, ¿Cuánto creció Jacobo?

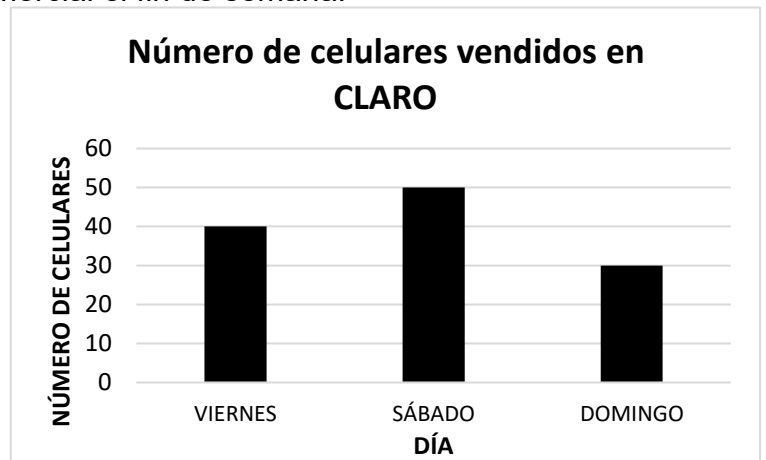
- a. Un metro
- b. Mas de un metro
- c. Menos de un metro
- d. 184 cm

ARGUMENTACIÓN

--

5. La tabla de datos muestra la cantidad de celulares que vendió la empresa “MOVISTAR” y el diagrama de barras la cantidad de celulares que vendió la empresa “CLARO” en un centro comercial el fin de semana:

Número de celulares vendidos en MOVISTAR	
DÍA	NÚMERO DE CELULARES
VIERNES	60
SÁBADO	40
DOMINGO	30

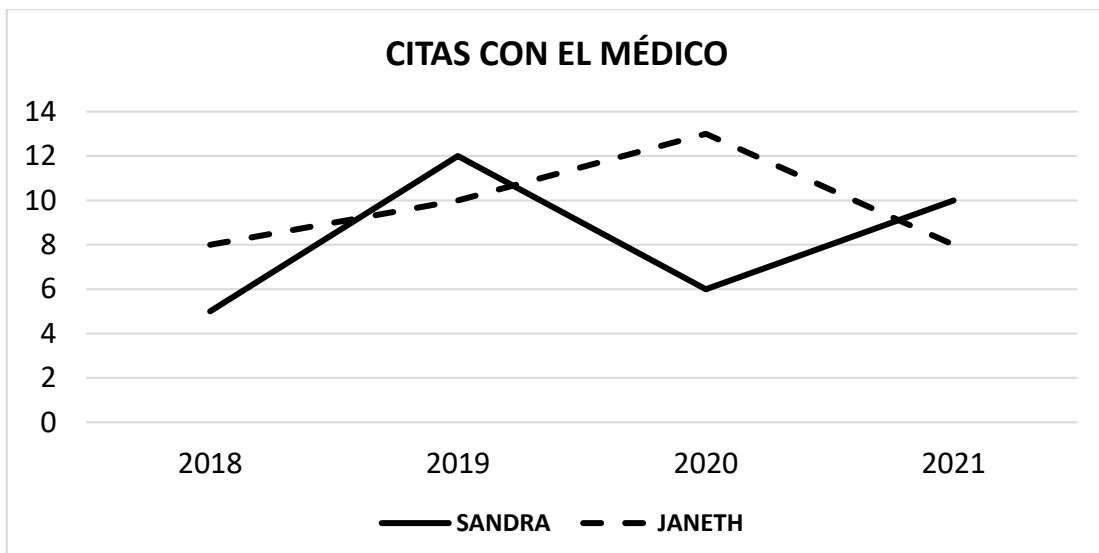


La afirmación verdadera es:

- Movistar vendió menos celulares que Claro el fin de semana.
- El domingo fue el día en que las dos empresas vendieron menos celulares.
- El sábado Movistar vendió más celulares que Claro
- El viernes, Movistar vendió menos celulares que Claro

ARGUMENTACIÓN

6. El siguiente Diagrama lineal muestra el número de citas médicas que tuvieron Sandra y Janeth en los últimos cuatro años.



- a. ¿Quién tuvo más citas en los últimos cuatro años?

+/*/******

- b. ¿Es correcto afirmar que en 2021 Janeth tuvo más citas que Sandra?

7. Después de salir de cine, Manuel y Tomás fueron a comer, al terminar deciden pagar la cuenta entre los dos, ¿cuánto dinero tiene que pagar cada uno?

FACTURA #123		
CANTIDAD	CONCEPTO	PRECIO (PESOS)
2	Hamburguesas	\$ 28 000
2	Porción papas	\$ 9 000
1	Malteada	\$ 14 000
2	Limonada	\$ 12 000

ARGUMENTACIÓN	RESPUESTA

8. Manuel compró una laptop que le costó \$ 2 526 432. Él hace su compra con su tarjeta de crédito y decide diferir la compra en 48 cuotas. ¿Cuál es el costo de cada cuota mensual sin tener en cuenta los intereses?

ARGUMENTACIÓN	RESPUESTA

9. La familia Suárez salieron de viaje el lunes a las 2:00 pm y volvieron de nuevo a casa el sábado a las 3:00 pm. ¿cuántos minutos estuvieron de viaje?

SÍNTESIS (Describe cómo resolverías dicha situación)

Realizó: Andrea Manfio	Revisó: Ángel Ortíz	Aprobó: Mónica Ramírez
------------------------	---------------------	------------------------